


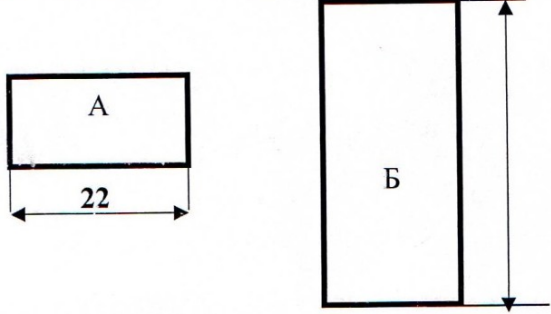


БОДОВА:

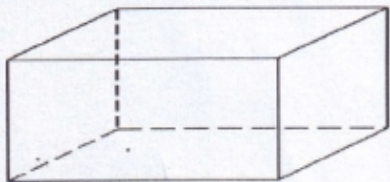
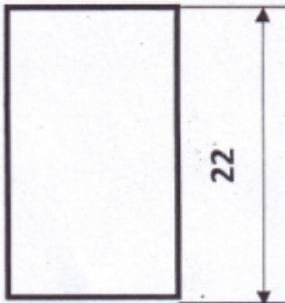
**Т Е С Т 5. разред**

**15.03.2015.**

<p><b>1. Шперплоча се добија унакрсним лепљењем</b></p> <p>а) парног б) непарног броја фурнира</p>	1	<p><b>2. Графитне оловке са ознаком НВ</b> припадају</p> <p>А) тврдим Б) меким В) средње тврдим</p>	1						
<p><b>3. Фосилна горива су</b></p> <p>а) необновљиви извор енергије б) обновљиви извор енергије</p>	1	<p><b>4. Преграђивањем речног тока настаје</b></p> <p>а) вештачко језеро б) природно језеро</p>	1						
		<p><b>5. На слици је приказано геометријско тело .....</b></p>	1						
		<p><b>Доцртај невидљиве ивице, одговарајућом врстом линија.</b></p>	2						
		<p><b>6. Допуни реченицу.</b> Прказано тело има ___ невидљиве ивице и ___ невидљива темена.</p>	2						
<p>7.</p> <p>Прерадом техничког дрвета добија се резана грађа и то:</p>  <p>_____</p> <p>_____</p> <p>_____</p>	3	<p><b>8. Повежи стрелицама припадајуће појмове:</b></p> <table border="0"> <tr> <td>1:1</td> <td>умањена размера</td> </tr> <tr> <td>1:10</td> <td>увећана размера</td> </tr> <tr> <td>5:1</td> <td>природна размера</td> </tr> </table>	1:1	умањена размера	1:10	увећана размера	5:1	природна размера	3
1:1	умањена размера								
1:10	увећана размера								
5:1	природна размера								
		<p><b>9. Сунчев колектор се усмерава према</b></p> <p>а) северу б) западу в) југу</p>	1						
<p><b>10. Необновљиви извори енергије су:</b></p> <p>а. угаљ б. нафта в. вода г. земни гас</p>	3	<p><b>11. Поређај текстилна влакна у групе:</b></p> <p>а. вуна   б. лан   в. свила   в. памук</p> <p>Биљна                                          Животињска</p> <p>..... , ..... , .....</p>	4						
<p><b>12. Основна сировина за производњу папира је</b></p> <p>А) целулоза из дрвета Б) све врсте отпадака В) стари папир</p>	1	<p><b>13. Штављење је основни поступак прераде .....</b></p>	2						

<p>14. Површина правоугаоника нацртана у размери 5 : 1 ће се</p> <p>а) повећати</p> <p>б) смањити</p>	2	<p>15. Hardware је назив за</p> <p>а. Кућиште рачунара</p> <p>б. Програме</p> <p>в. Други назив за Хард диск</p>	1								
<p>16. У означене кругове упиши вредност углова троугла</p>				3							
<p>17. Испод слике упиши одговарајући назив за приказани део</p>				4							
<p>18. Средишњи део панел плоче је састављен</p> <p>а. од слепљеног фурнира</p> <p>б. од слепљених дрвених летвица</p> <p>в. од ситних отпадака дрвета</p>	3	<p>19. Правилно повежи компјутерске програме</p> <table border="0" style="width: 100%;"> <tr> <td>Microsoft Word</td> <td>цртање</td> </tr> <tr> <td>Paint</td> <td>израда таб. прорачуна</td> </tr> <tr> <td>Excel</td> <td>писање, обрада текста</td> </tr> </table>	Microsoft Word	цртање	Paint	израда таб. прорачуна	Excel	писање, обрада текста	3		
Microsoft Word	цртање										
Paint	израда таб. прорачуна										
Excel	писање, обрада текста										
<p>20. Повежи стрелицама појмове:</p> <table border="0" style="width: 100%;"> <tr> <td>Desktop</td> <td>врста слова</td> </tr> <tr> <td>Font</td> <td>радна површина</td> </tr> <tr> <td>Drawing</td> <td>пречица до програма</td> </tr> <tr> <td>Shortcut</td> <td>алатка</td> </tr> </table>	Desktop	врста слова	Font	радна површина	Drawing	пречица до програма	Shortcut	алатка	4	<p>21. Јединица којом се мери величина екрана монитора је</p> <p>а. Пиксел</p> <p>б. Мегахерц</p> <p>в. Инч</p>	2
Desktop	врста слова										
Font	радна површина										
Drawing	пречица до програма										
Shortcut	алатка										
<p>22. Правоугаоник на слици А је нацртан у размери 1 : 1 .</p> <p>Правилно котирај дужину правоугаоника под Б који је нацртан у размери 3 : 1 .</p>			2								

КЉУЧ: 5. разред

1. б) непарног	13. КОЖЕ
2. в) средње тврдим	14. а) повећати
3. а) необновљив извор енергије	15. а. Кућиште рачунара
4. а) вештачко језеро	16. 30 45 90 степени
5. <b>КВАДАР</b> признаје се 1 бод	17. кућиште, флеш (мем. штапић), штампач, скенер. (с лева на десно) Инструкција: за сваки тачан одговор по 1 бод (укупно 4)
 <p>Само за правилно уцртане линије 2 бода</p>	18. б. од слепљених дрвених летвица
	19. Microsoft Word цртање Paint израда таб. прорачуна Excel писање, обрада текста Инструкција: за сваки тачан одговор по 1 бод (укупно 3)
6. 3 (три) 1 (један) 7. ГРЕДЕ ДАСКЕ ЛЕТВЕ Инструкција: за сваки тачан одговор по 1 бод (укупно 3)	20. Desktop врста слова Font радна површина Drawing пречица до програма Shortcut алатка Инструкција: за сваки тачан одговор по 1 бод (укупно 4)
8. 1:1 умањена размера 1:10 увећана размера 5:1 природна размера Инструкција: за сваки тачан одговор по 1 бод (укупно 3)	21. инч
9. в) југу	
10. а. угаљ б. нафта г. земни гас Инструкција: за сваки тачан одговор по 1 бод (укупно 3)	
11. Биљна Животињска б. лан в. памук а. вуна в. свила Инструкција: за сваки тачан одговор по 1 бод (укупно 4)	
12. А) целулоза из дрвета	